

★江戸や大阪のまちと人々の暮らし

産業や商業が発展し、交通が整備されたことで都市がさかえ、町人が力をつけた。

- 江戸…政治の中心。「将軍のおひざもと」といわれ、人口が100万人をこえた。
- 日本橋を起点として五街道が整備され、多くの人やものが行き来した。
- 大阪…経済の中心。「天下の台所」と呼ばれ、全国の産物が集まり、取り引きされた。

★活気あふれる町人文化の広がり新しい学問


歌舞伎・人形浄瑠璃…江戸・大阪・京都や各地の城下町の芝居小屋で演じられた。  
作者の近松門左衛門は人々の人気を集めた。



人形浄瑠璃

- ( )…当時の世の中や人々の様子をえがいた多色刷りの版画。

歌川(安藤)広重の「東海道五十三次」など。



東海道五十三次

◇新しい学問

蘭学…オランダ語の書物を通じて、ヨーロッパの新しい知識や技術を学ぶ学問。

- 杉田玄白…オランダ語の医学書をほん訳し、「解体新書」を出版。
- 伊能忠敬…全国の測量を行って、正確な日本地図を完成。

- ( )…日本の古典をもとに、古くからの日本人の考え方を研究する学問。

本居宣長…「古事記」を研究し、35年か

◇子どもの教育

- ( )…町人や百姓の( )を教えた。

藩校…各藩の武士の子どもが、学問や

**13** とは？

授業1時間の内容を  
確認するプリントです。

1 次の問いの答えを、あとの□からえらべよ。

- 江戸時代、経済の中心であった大阪は、何と呼ばれましたか。( )
- 「曾根崎心中」など多くの歌舞伎や人形浄瑠璃の作者として、人気を集めたのはだれですか。( )
- オランダ語の書物を通じて、ヨーロッパの新しい知識や技術を学ぶ学問を何といいますか。( )
- 各藩の武士の子どもが、学問や武芸を学んだ学校を何といいますか。( )

1

歌川広重

藩校

寺子屋

2

天下の台所

国学

蘭学

近松門左衛門





## 調べる

えど  
江戸時代の文化と学問について調べなさい。

- 江戸時代の町人文化について、下の表にまとめなさい。

文化	歌舞伎 <small>かぶき</small>	浮世絵 <small>うきよえ</small>
代表的な人物		
どのような様子だったか。 どのように親しまれたか。		

定着プリント  
**プリ**の内容を定着させる  
 プリントです。

- 江戸時代に生まれた2つの学問について比べながら、下の表にまとめなさい。

学問	蘭学 <small>らんがく</small>	国学 <small>こくがく</small>
代表的な人物		
代表的な書物	<small>かいたいしんしょ</small> <b>「解体新書」</b>	<small>こじきでん</small> <b>「古事記伝」</b>
どのような学問か		
社会にあたえた 影響 <small>えいきょう</small>		



1



江戸時代の文化や学問について答えなさい。

- (1) 右の図のような江戸時代の人々や風景をえがいた絵のことを何といいますか。正しいものを○でかこみなさい。

浮世絵 ・ 水ぼく画






- (2) 江戸時代の文化について、表にまとめます。( )にあてはまることばを□から選んで記号を書きなさい。

文化	((1)の答え)…江戸時代の人々や風景をえがいた絵	①( )…音楽やおどりを取り入れたしばい
広めた人	②( )	③( )

ア 近松門左衛門    イ 歌川広重    ウ 歌舞伎    エ 茶の湯

- (3) 江戸時代の文化を代表する人物について発表しています。それぞれだれのことを話しているのかを□から選んで記号を書きなさい。

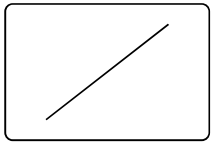
- ① ( )  50才から測量を勉強しはじめ、日本全国を測量して歩いて日本地図を作りました。
- ② ( )  前野良沢らとオランダ語の医学書をほんやくし、「解体新書」を出版しました。
- ③ ( )  「古事記」などを研究して「古事記伝」を書き、国学を完成させました。

ア 杉田玄白    イ 伊能忠敬    ウ 本居宣長

- (4) 江戸時代には子供たちに読み・書き・そろばんを教えるための学校が作られました。この学校を何といいますか。

## 標準プリント

この単元項目の標準的なレベルのプリントです。



1

(51点)



江戸幕府の政治と人々の暮らしについて答えなさい。

- (1) 幕府の大名支配について、ノートにまとめました。( )にあてはまることばを□から選んで書きなさい。

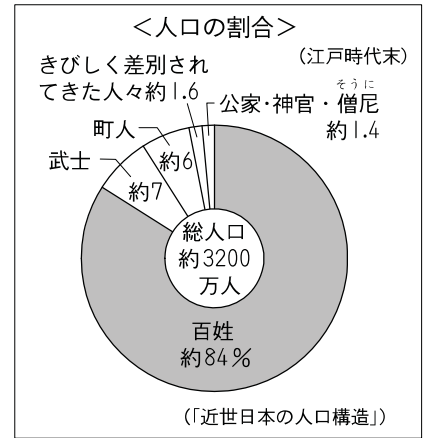
江戸幕府は大名を親藩・譜代・外様の3つに分けた。  
また、①( )というきまりを定めて大名を取りしまった。  
3代将軍②( )は大名を1年おきに江戸と領地を行き来させる、③( )という制度を定めた。

徳川家康 徳川家光 参勤交代 検地 武家諸法度

- (2) このころの人々の身分とその暮らしについて、①、②にあてはまる身分を□から選んで記号を書きなさい。

- ① ( ) 町という小さな社会をつくって、商業や流通などの仕事をしていた。  
② ( ) このころの人口の80%以上を占め、収穫の半分の年貢をおさめていた。

ア 百姓 イ 武士 ウ 町人



- (3) ①～④の説明にあう絵を右のア、イから選んで記号を書きなさい。

- ① 幕府は鎖国をおこない、貿易をオランダと中国だけに限った。  
② 幕府は、キリスト教の信者が増え、幕府の命令にしたがわなくなることをおそれた。  
③ キリスト教を禁止した幕府は、キリストの像を踏ませる絵踏みで取りしまった。  
④ 長崎の出島でオランダと貿易をしていた。



編集プリント  
さまざまな問題から選択してオリジナルプリントを作成できます