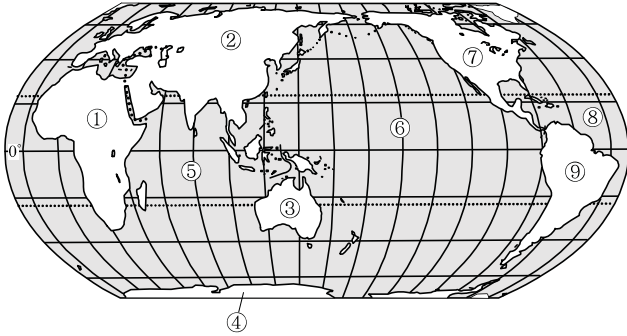


<地球のすがた>

次の各問いに答えなさい。

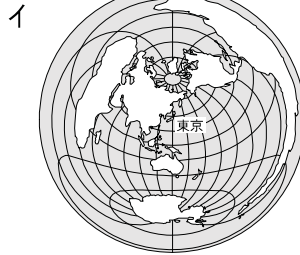
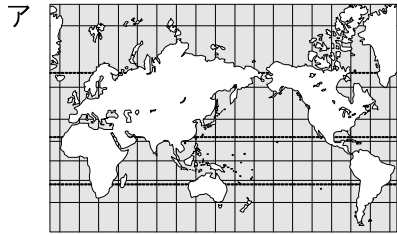
[1] 次の地図中の①～⑨にあてはまる大陸名、海洋名を下から選んで書きなさい。



- ① [                    ]大陸    ② [                    ]大陸
- ③ [                    ]大陸    ④ [                    ]大陸
- ⑤ [                    ]            ⑥ [                    ]
- ⑦ [                    ]大陸    ⑧ [                    ]
- ⑨ [                    ]大陸

南極 ・ 北アメリカ ・ オーストラリア ・ アフリカ ・ 太平洋  
 大西洋 ・ ユーラシア ・ 南アメリカ ・ インド洋

[2] 次のそれぞれの文にあてはまる地図を選び、記号で書きなさい。



- (1) 経線と緯線が直角に交わり、角度が正しいので海  
不正確になる欠点がある。
- (2) 中心からの距離と方位が正しいが、中心から

**いぷり** とは？ 距離が

授業1時間の内容を  
確認するプリントです。

[3] 次の \_\_\_\_ に、あてはまる語句や数字を書きなさい。

- ・ 三大洋 … 面積の大きい順に、① \_\_\_\_\_ , ② \_\_\_\_\_ , インド洋。
- ・ 六大陸 … 面積の大きい順に、③ \_\_\_\_\_ 大陸, アフリカ大陸, ④ \_\_\_\_\_ 大陸,  
⑤ \_\_\_\_\_ 大陸, 南極大陸, ⑥ \_\_\_\_\_ 大陸。
- ・ 海と陸地の面積 … ⑦ \_\_\_\_\_ 対 ⑧ \_\_\_\_\_ の割合で海の方が広い。

①

②





- (1) 地球の表面のうち海洋と陸地との割合はどれ位ですか。海洋：陸地の比で答えなさい。  
[ ]
- (2) 世界の六大陸のうちの1つで、アジアとヨーロッパをあわせたものを何大陸とよびますか。  
[ ]
- (3) 世界の三大洋は、太平洋・インド洋と何ですか。  
[ ]
- (4) 六大陸の中で最大のものはユーラシア大陸ですが、最小のものは何大陸ですか。  
[ ]
- (5) 地球を縮小してつくった球体を何といいますか。  
[ ]
- (6) 経線と緯線が直角に交わっているの見やすいために、海図などによく使われている地図は何図法ですか。  
[ ]
- (7) 中心点から各地点への距離と方位が正しく表されている地図は何図法ですか。  
[ ]
- (8) 太平洋、大西洋、インド洋を総称して何とよびますか。  
[ ]
- (9) アジア、オーストラリア、南極、南北アメリカを総称して何とよびますか。  
[ ]
- (10) アジアの南、アフリカとオーストラリアの間に位置し、三大洋の中で最も小さい海洋は何ですか。  
[ ]
- (11) ユーラシア大陸、アフリカ大陸、北アメリカ大陸、南アメリカ大陸、オーストラリア大陸、南極大陸を総称して何とよびますか。  
[ ]
- (12) ヨーロッパの南に位置し、インド洋、大西洋、地中海に囲まれているのは何大陸ですか。  
[ ]
- (13) アメリカ合衆国、カナダ、メキシコなどの国がある、パナマ地峡の北側の大陸は何大陸ですか。  
[ ]
- (14) ブラジルやペルー、アルゼンチンなどの国がある、パナマ地峡の南側の大陸は何大陸ですか。  
[ ]

## 定着プリント

**i-プリ** の内容を定着させる  
プリントです。



1

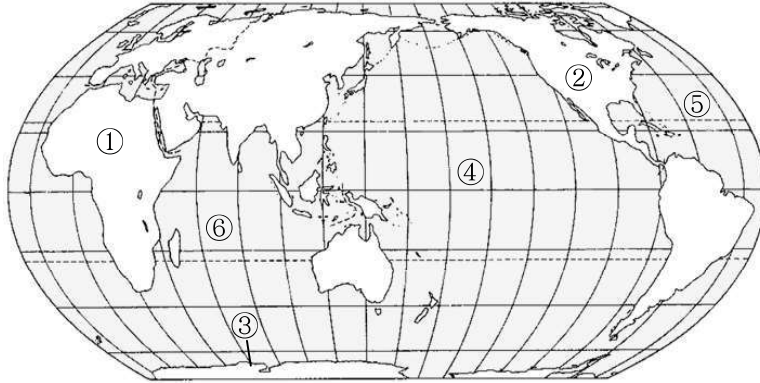


<地球のすがた>

次の各問いに答えなさい。

[1] 次の各問いに答えなさい。

(1) 次の ①～③ の大陸名, ④～⑥ の大洋名を書きなさい。



- ① [ ]
- ② [ ]
- ③ [ ]
- ④ [ ]
- ⑤ [ ]
- ⑥ [ ]

(2) 地球の表面積の海と陸との割合について,

海洋 : 陸地

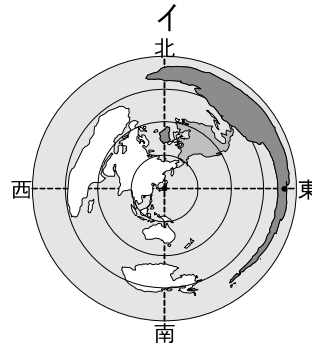
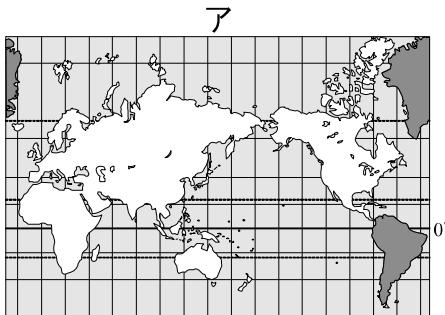
# 標準プリント

この単元項目の標準的な  
レベルのプリントです。

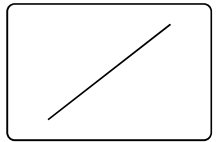
[2] 次の各問いに答えなさい。

(1) 次の説明に合うものを下から選んで書きなさい。

- ① 航空図などに使用される, 中心からの距離と方位が正しい地図。 [ ]  
中心からはなれるほど陸地の形がゆがんで表される。
- ② 海図などに使用される, 緯線と経線が直角に交わり, 角度が正しい地図。 [ ]  
赤道からはなれるほど, 実際の面積より大きく表される。
- ③ 持ち運びには不便で全体を一度に見ることはできないが, 地球の形や  
大きさ, 位置をほぼ正確に表した模型。 [ ]



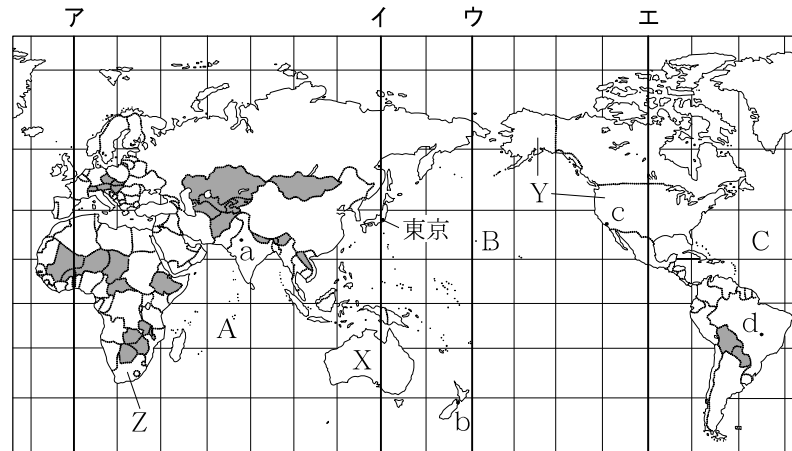
(2) ウは何といますか。 [ ]




1



下の地図を見て、あとの問いに答えなさい。



- (1) 本初子午線(0度の経線)を地図中のア～エから選び、記号で答えなさい。
- (2) 最も大きい海洋を地図中A～Cから選び、記号とその海洋名を答えなさい。
- (3) 地図中のXは世界最小の大陸を示しています。大陸名を答えなさい。
- (4) 世界を6つの州に区分したとき、地図中のYの国は何州にふくまれますか。
- (5) 地図中のZの国では、7月の季節は何ですか。春夏秋冬から選んで書きなさい。
- (6) 地図中a～dの都市のうち、最も早く1日を迎える都市はどこですか。記号で答えなさい。
- (7) 日本から見て、地球のほぼ反対側に位置する国にある都市を、地図中a～dから1つ選び、記号で答えなさい。
- (8) 地図中に  で示した国々に共通することは何ですか。次のア～エから1つ選び、記号で答えなさい。

ア 日本とほぼ同じ緯度に位置する。	イ 島国である。
ウ 内陸国である。	エ 同じ州に属する国である。

## 編集プリント

さまざまな問題から選択  
してオリジナルプリント  
を作成できます



- (1) イングランドとスコットランド、アイルランドの国旗を組み合わせた、イギリスの国旗を何といいますか。 [ ]
- (2) ブラジルやペルー、アルゼンチンなどの国がある、パナマ地峡の南側の大陸は何大陸ですか。 [ ]
- (3) 経度0度（本初子午線）の経線はどここの国の何という都市を通っていますか。 [ ]
- (4) 地球の表面のうち海洋と陸地との割合はどれ位ですか。海洋：陸地の比で答えなさい。 [ ]
- (5) 世界の六つの州のうち、日本やフィリピン、インド、サウジアラビアなどが属するのは何州ですか。 [ ]
- (6) イギリスの正式な国名を書きなさい。 [ ]
- (7) 19世紀から20世紀にかけてのアジアやアフリカの国々のように、欧米諸国の軍事的侵略によって従属させられた地域を何といいますか。 [ ]
- (8) 世界の六つの州のうち、イギリスやイタリア、フィンランドなどが属するのは何州ですか。 [ ]
- (9) アジア、オーストラリア、南極、南北アメリカの各大陸に囲まれる、世界最大の海洋は何ですか。 [ ]
- (10) 赤道を0度として、それと平行な線を何といいますか。 [ ]
- (11) 世界でもっとも国土が広いのは何 [ ]
- (12) 六大陸の中で最大のものはユーラ [ ]
- (13) 世界の六大陸のうちの1つで、アジアとヨーロッパをあわせたものを何大陸とよびますか。 [ ]
- (14) ヨーロッパの南に位置し、インド洋、大西洋、地中海に囲まれているのは何大陸ですか。 [ ]
- (15) アジア州をより細かい地域に区分すると、東南アジア、西アジア、南アジア、中央アジア、シベリアと何アジアに分けられますか。 [ ]

**一問一答プリント**  
**プレビューする度に出題順が**  
**変わります。**  
**反復演習にオススメ。**