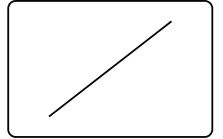




世界のすがた

日本コスモトピア

名前



<世界のすがた>

次の各問いに答えなさい。

[1] 下の地図を見て、あとの問いに答えなさい。



(1) 次の①～⑥にあてはまる州を、地図中のア～カから選び、記号で答えなさい。

- ① アジア州 [] ② オセアニア州 []
- ③ アフリカ州 [] ④ 南アメリカ州 []
- ⑤ ヨーロッパ州 [] ⑥ 北アメリカ州 []

(2) 陸地で境を接している州の組み合わせとして誤っているものを、次のア～エから1つ選び、記号で答えなさい。 []

- ア アジア州とアフリカ州 イ 北アメリカ州と南アメリカ州
- ウ アジア州とヨーロッパ州 エ オセアニア州と南アメリカ州

(3) 世界で一番人口の多い州はどこですか。地図中のア～カから選び、記号で答えなさい。 []

(4) 世界最大の面積を有す地図中Aの国は、二つあります。地図中のア～カから選び、記号で答えなさい。 [] []

(5) 日本から地球の反対側で、遠い国がある州はどこですか。地図中のア～カから選び、記号で答えなさい。 []



授業1時間の内容を確認するプリントです。


①

②





世界のすがた

 日本コスモトピア

名前

- (1) 世界の六つの州のうち、日本やフィリピン、インド、サウジアラビアなどが属するのは何州ですか。
[]
- (2) 世界の六つの州のうち、イギリスやイタリア、フィンランドなどが属するのは何州ですか。
[]
- (3) 世界の六つの州のうち、エチオピアや南アフリカ共和国などが属するのは何州ですか。
[]
- (4) 世界の六つの州のうち、アメリカ合衆国やカナダなどが属するのは何州ですか。
[]
- (5) 世界の六つの州のうち、ブラジルやウルグアイ、アルゼンチンなどが属するのは何州ですか。
[]
- (6) 世界の六つの州のうち、オーストラリアやニュージーランドなどが属するのは何州ですか。
[]
- (7) 世界の六つの州の中で、最も人口が多いのは何州ですか。
[]
- (8) 世界の六つの州の中で、日本の反対側にあるのは何州ですか。
[]

定着プリント

i-プリ の内容を定着させる
プリントです。



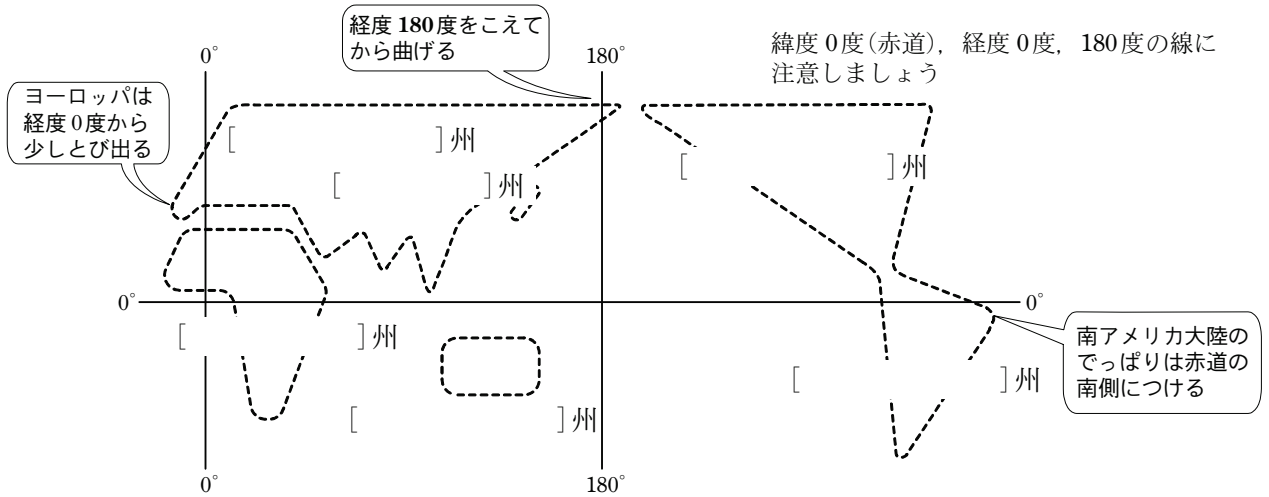
1



<世界のすがた>

次の各問いに答えなさい。

- [1] ヒントを見ながら -----をなぞり、世界の略地図をかきなさい。また、完成した略地図の[]に、地域区分を書き入れなさい。



- [2] 地図を見て、あとの問いに答えなさい。



標準プリント
この単元項目の標準的なレベルのプリントです。

- (1) 地図中の記号の国名を答えなさい。また記号を入れなさい。

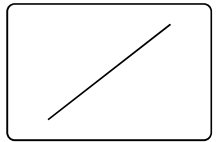
ア [] ()
ウ [] ()
オ [] ()

カ [] ()

- [① ヨーロッパ州 ② 北アメリカ州 ③ 南アメリカ州
④ アフリカ州 ⑤ アジア州 ⑥ オセアニア州]

- (2) 日本から遠く、日本の反対側にある国を地図中の記号から選び、国名を答えなさい。

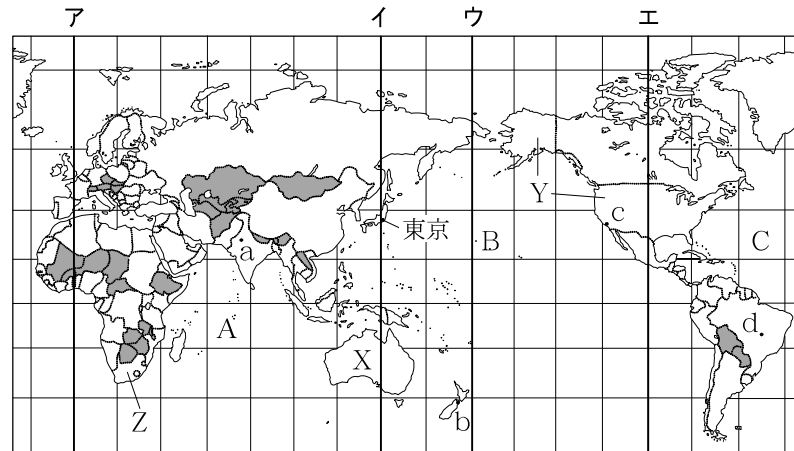
[.]




1



下の地図を見て、あとの問いに答えなさい。



- (1) 本初子午線(0度の経線)を地図中のア～エから選び、記号で答えなさい。
- (2) 最も大きい海洋を地図中A～Cから選び、記号とその海洋名を答えなさい。
- (3) 地図中のXは世界最小の大陸を示しています。大陸名を答えなさい。
- (4) 世界を6つの州に区分したとき、地図中のYの国は何州にふくまれますか。
- (5) 地図中のZの国では、7月の季節は何ですか。春夏秋冬から選んで書きなさい。
- (6) 地図中a～dの都市のうち、最も早く1日を迎える都市はどこですか。記号で答えなさい。
- (7) 日本から見て、地球のほぼ反対側に位置する国にある都市を、地図中a～dから1つ選び、記号で答えなさい。
- (8) 地図中に  で示した国々に共通することは何ですか。次のア～エから1つ選び、記号で答えなさい。

ア 日本とほぼ同じ緯度に位置する。	イ 島国である。
ウ 内陸国である。	エ 同じ州に属する国である。

編集プリント

さまざまな問題から選択
してオリジナルプリント
を作成できます



- (1) イングランドとスコットランド、アイルランドの国旗を組み合わせた、イギリスの国旗を何といいますか。 []
- (2) ブラジルやペルー、アルゼンチンなどの国がある、パナマ地峡の南側の大陸は何大陸ですか。 []
- (3) 経度0度（本初子午線）の経線はどここの国の何という都市を通っていますか。 []
- (4) 地球の表面のうち海洋と陸地との割合はどれ位ですか。海洋：陸地の比で答えなさい。 []
- (5) 世界の六つの州のうち、日本やフィリピン、インド、サウジアラビアなどが属するのは何州ですか。 []
- (6) イギリスの正式な国名を書きなさい。 []
- (7) 19世紀から20世紀にかけてのアジアやアフリカの国々のように、欧米諸国の軍事的侵略によって従属させられた地域を何といいますか。 []
- (8) 世界の六つの州のうち、イギリスやイタリア、フィンランドなどが属するのは何州ですか。 []
- (9) アジア、オーストラリア、南極、南北アメリカの各大陸に囲まれる、世界最大の海洋は何ですか。 []
- (10) 赤道を0度として、それと平行な線を何といいますか。 []
- (11) 世界でもっとも国土が広いのは何 []
- (12) 六大陸の中で最大のものはユーラ []
- (13) 世界の六大陸のうちの1つで、アジアとヨーロッパをあわせたものを何大陸とよびますか。 []
- (14) ヨーロッパの南に位置し、インド洋、大西洋、地中海に囲まれているのは何大陸ですか。 []
- (15) アジア州をより細かい地域に区分すると、東南アジア、西アジア、南アジア、中央アジア、シベリアと何アジアに分けられますか。 []

一問一答プリント
プレビューする度に出題順が
変わります。
反復演習にオススメ。